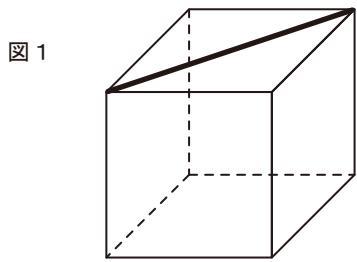


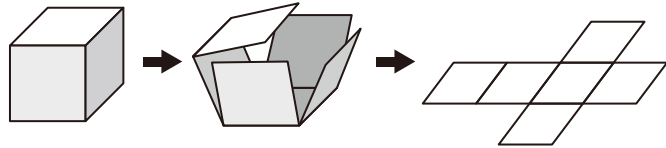
図1のような、サイコロがありました。このサイコロの<sup>い</sup>辺の部分<sup>い</sup>を切り開いて1枚の平らな図にしようとしたが、まちがえて1か所だけ面をななめに切ってしまった。

(そのほかは、<sup>い</sup>辺で切り開いていきました。)

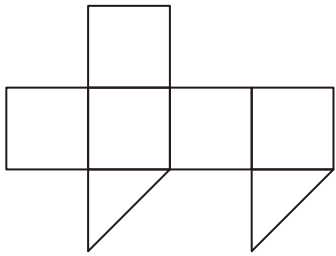
このときできた開いた図として正しいと思われるものを、下の(あ)～(け)から全てえらびなさい。



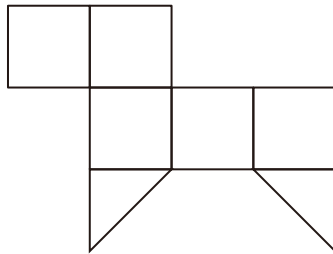
サイコロを辺で切り開いた図の例



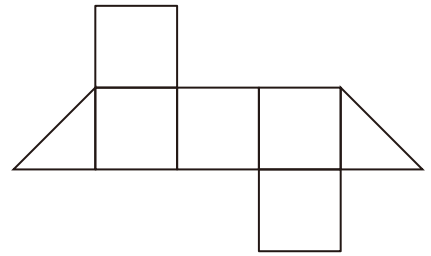
(あ)



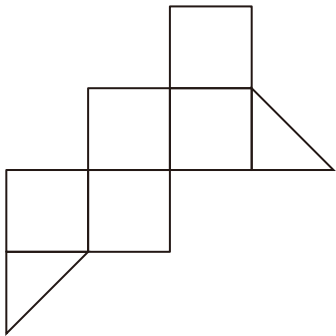
(い)



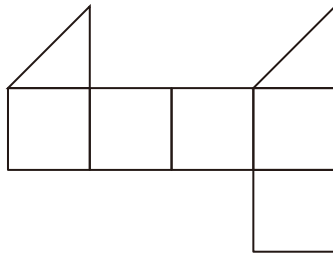
(う)



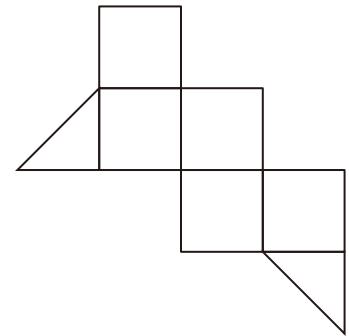
(え)



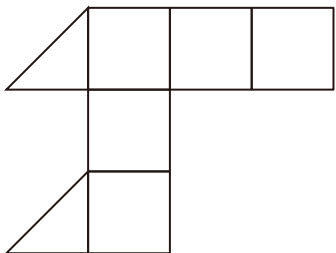
(お)



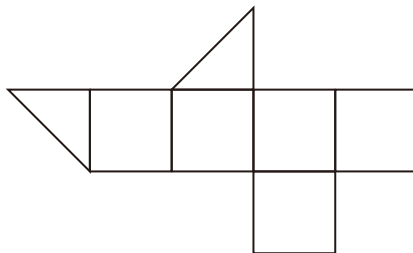
(か)



(き)



(く)



(け)

